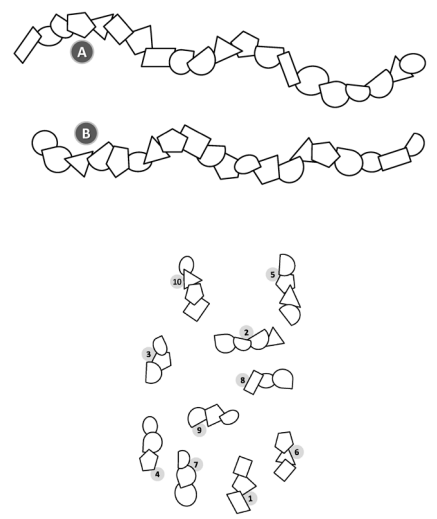


Formidabel

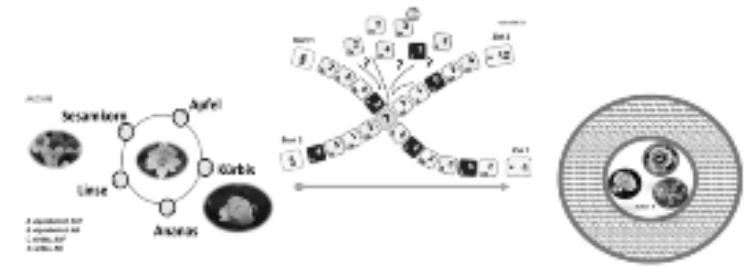


Christian Bosenick

Gehirntraining XXL

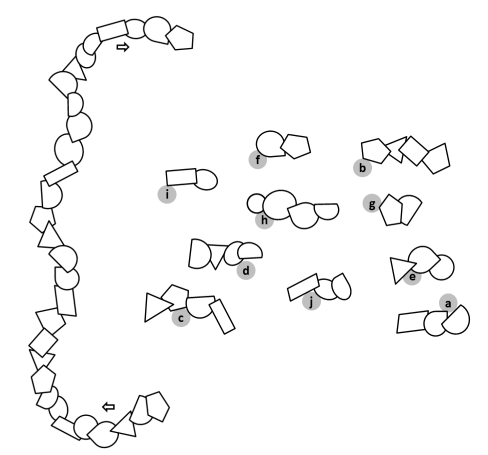


Kraft und Beweglichkeit für die grauen Zellen



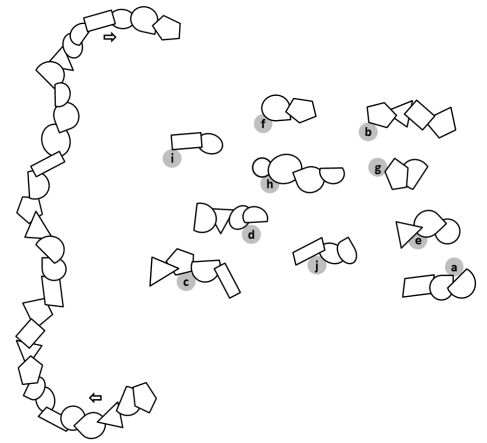
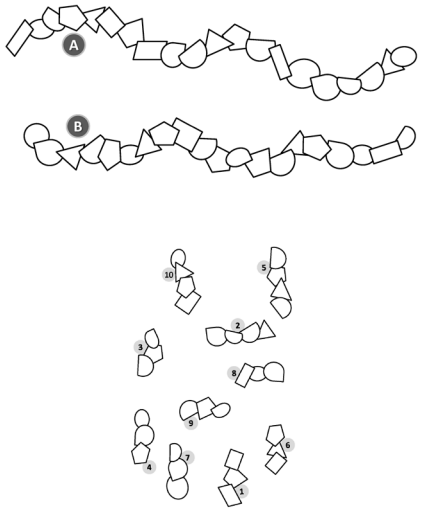
Starke Übungen für Gedächtnis,
Aufmerksamkeit, Konzentration,
Wortfindung und logisches Denken

Für alle, die im Kopf fit bleiben wollen.
Für junge Leute, Erwachsene und Senioren.



So funktioniert

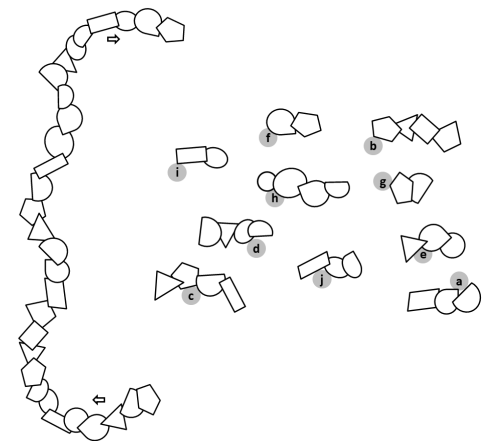
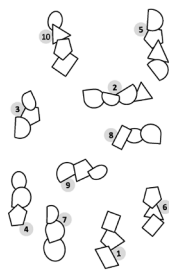
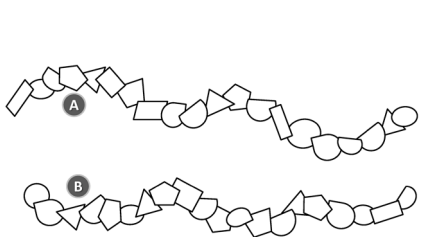
Formidabel



Formidabel

Bei dieser Übung reichen die Schwierigkeiten von relativ leicht bis mittel. Und es gibt zwei verschiedene Aufgabentypen:

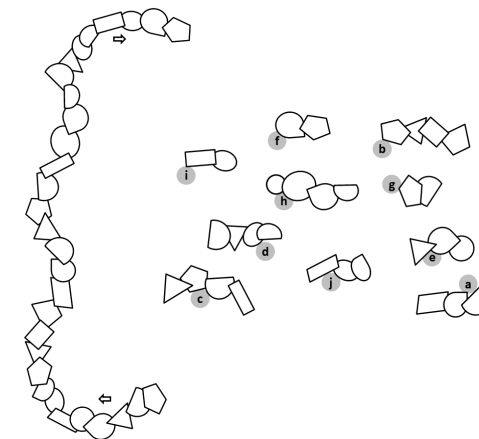
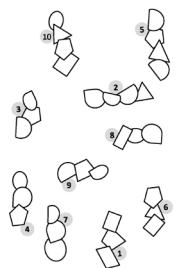
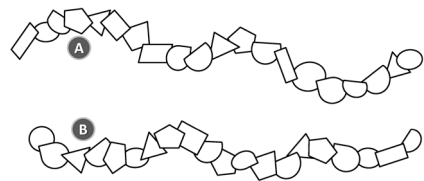
- 1) Es werden zwei Formenketten gezeigt, A und B. Dazu siehst Du Fragmente, und Du sollst die einzelnen Fragmente den Formenketten zuordnen.
- 2) Es wird eine Formenkette gezeigt, dazu 10, 20 oder 30 Fragmente der Formenkette. Du sollst die Reihenfolge finden, in der die Fragmente in der Formenkette erscheinen.



Es folgen ...

... die Aufgaben
AB 20.01 auf Seite 68
und AB 30.01 auf Seite 70
im Buch

... und ein paar Lösungen.

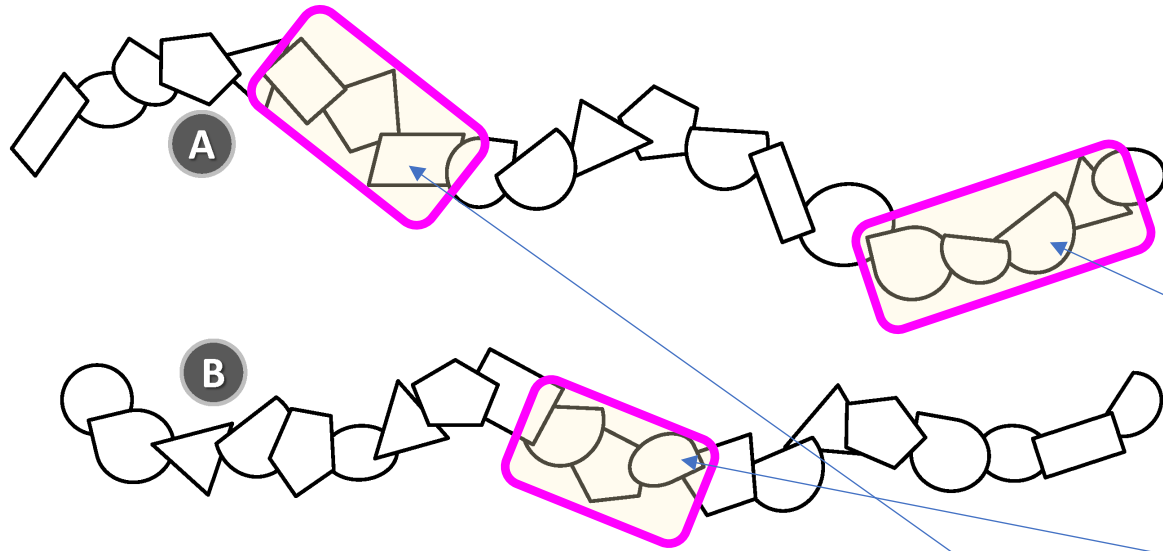


Formidabel

Wir beginnen mit AB 20.01.

Tabelle für die Zuordnung

A? / B?

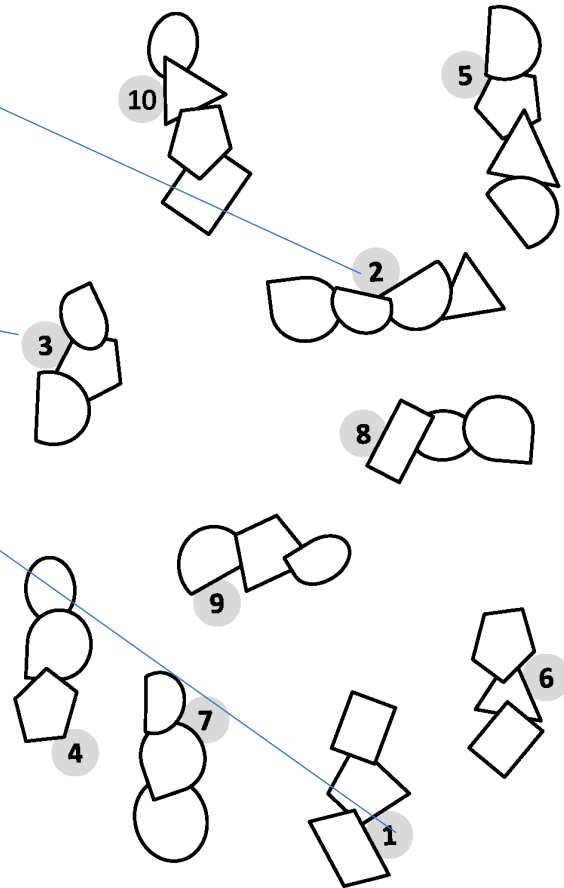


Zu welcher Formenkette (A oder B) gehören die einzelnen Fragmente?

1	- A
2	- A
3	- B
4	-
5	-
6	-
7	-
8	-
9	-
10	-

Mit Ausdauer und genauem Hinschauen findest Du die Antworten.

Jetzt zeige ich für 3 Fragmente ihre Kette und wo sie dort sitzen.



Formidabel

Jetzt zur Aufgabe AB 30.01.

In welcher Reihenfolge stehen die Fragmente in der Formenkette?

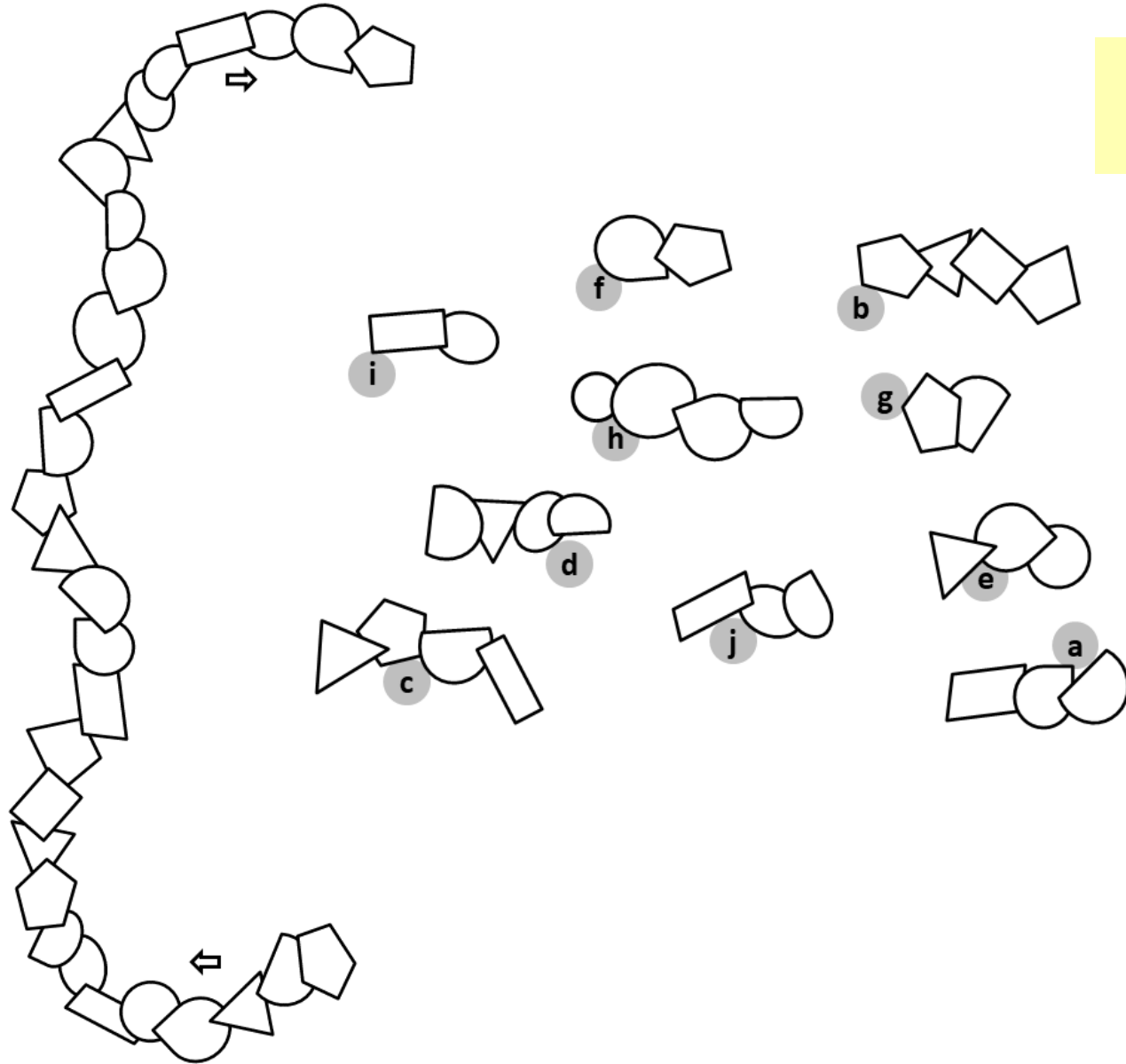


Tabelle für die Reihenfolge ? (a-j)

1	-
2	-
3	-
4	-
5	-
6	-
7	-
8	-
9	-
10	-



Formidabel

Jetzt zur Aufgabe AB 30.01.

In welcher Reihenfolge stehen die Fragmente in der Formenkette?

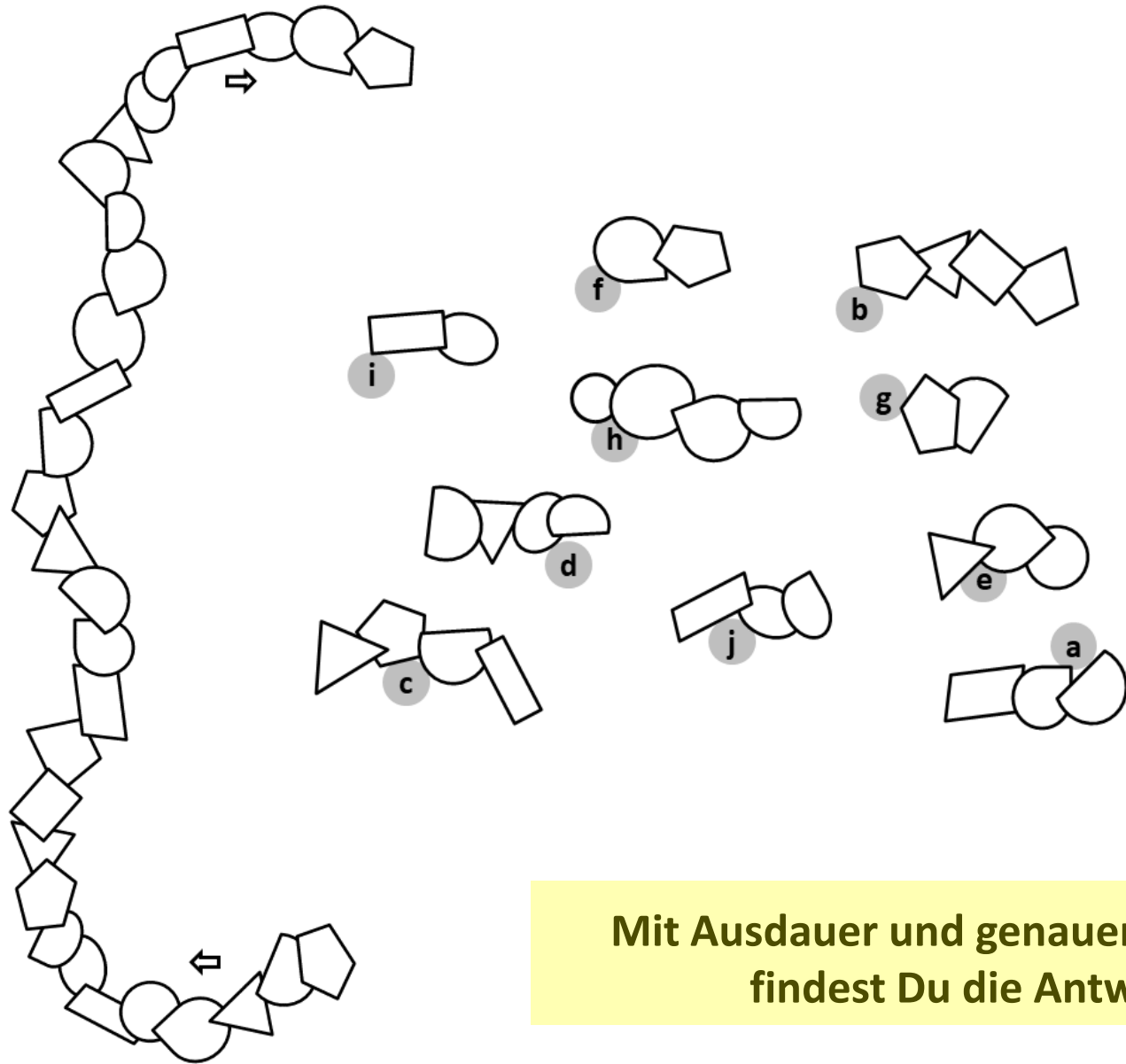


Tabelle für die Reihenfolge ? (a-j)

1	-
2	-
3	-
4	-
5	-
6	-
7	-
8	-
9	-
10	-

Mit Ausdauer und genauem Hinschauen findest Du die Antworten.

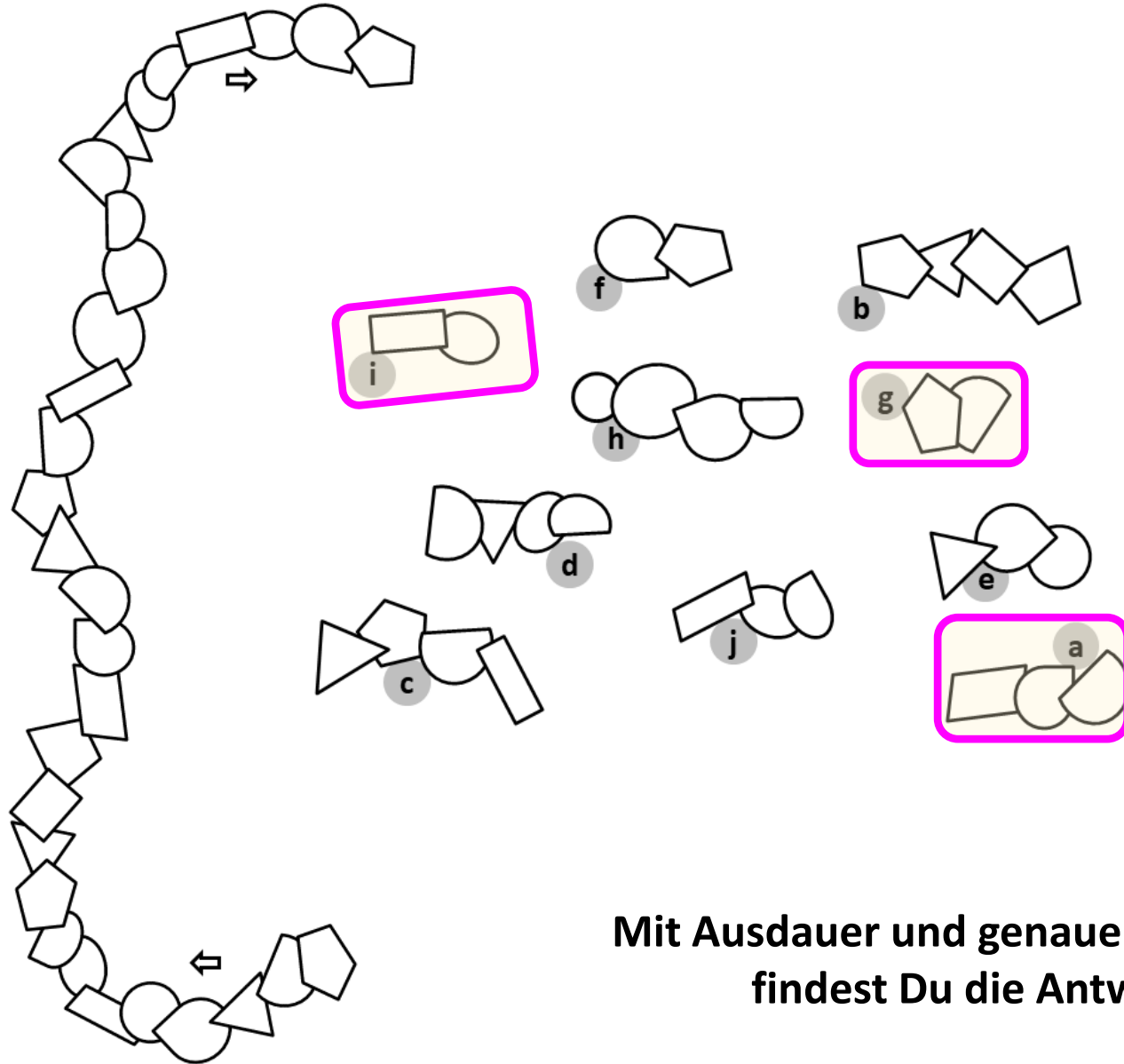


Formidabel

Jetzt zur Aufgabe AB 30.01.

Tabelle für die Reihenfolge ? (a-j)

In welcher Reihenfolge stehen die Fragmente in der Formenkette?



Jetzt zeige ich 3 Fragmente, für die 1., für die 5. und für die 9. Position.

1	-
2	-
3	-
4	-
5	-
6	-
7	-
8	-
9	-
10	-

Mit Ausdauer und genauem Hinschauen findest Du die Antworten.

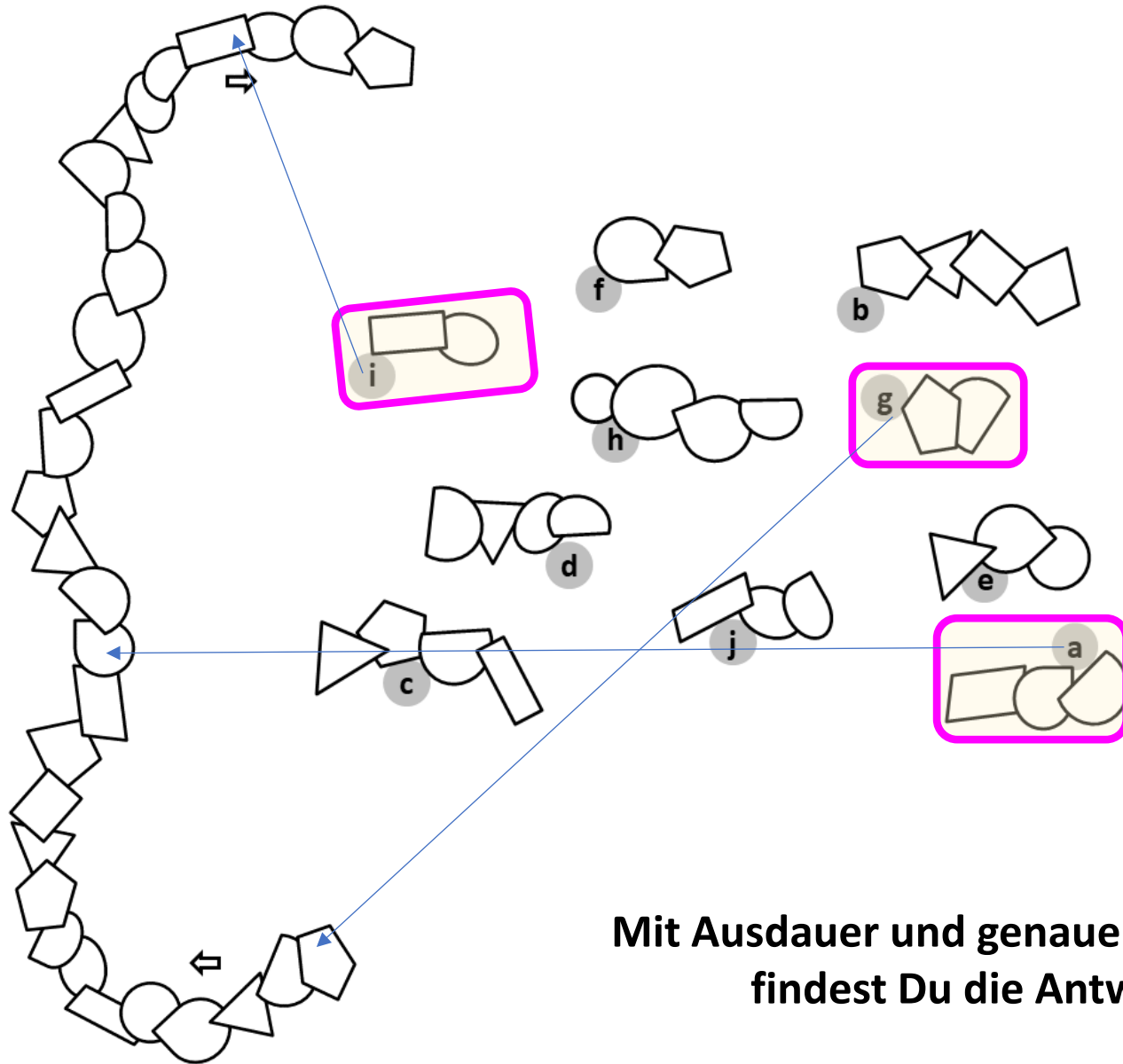


Formidabel

Jetzt zur Aufgabe AB 30.01.

Tabelle für die Reihenfolge ? (a-j)

In welcher Reihenfolge stehen die Fragmente in der Formenkette?



Jetzt zeige ich 3 Fragmente, für die 1., für die 5. und für die 9. Position.

Mit Ausdauer und genauem Hinschauen findest Du die Antworten.

1	-
2	-
3	-
4	-
5	-
6	-
7	-
8	-
9	-
10	-



Formidabel

Jetzt zur Aufgabe AB 30.01.

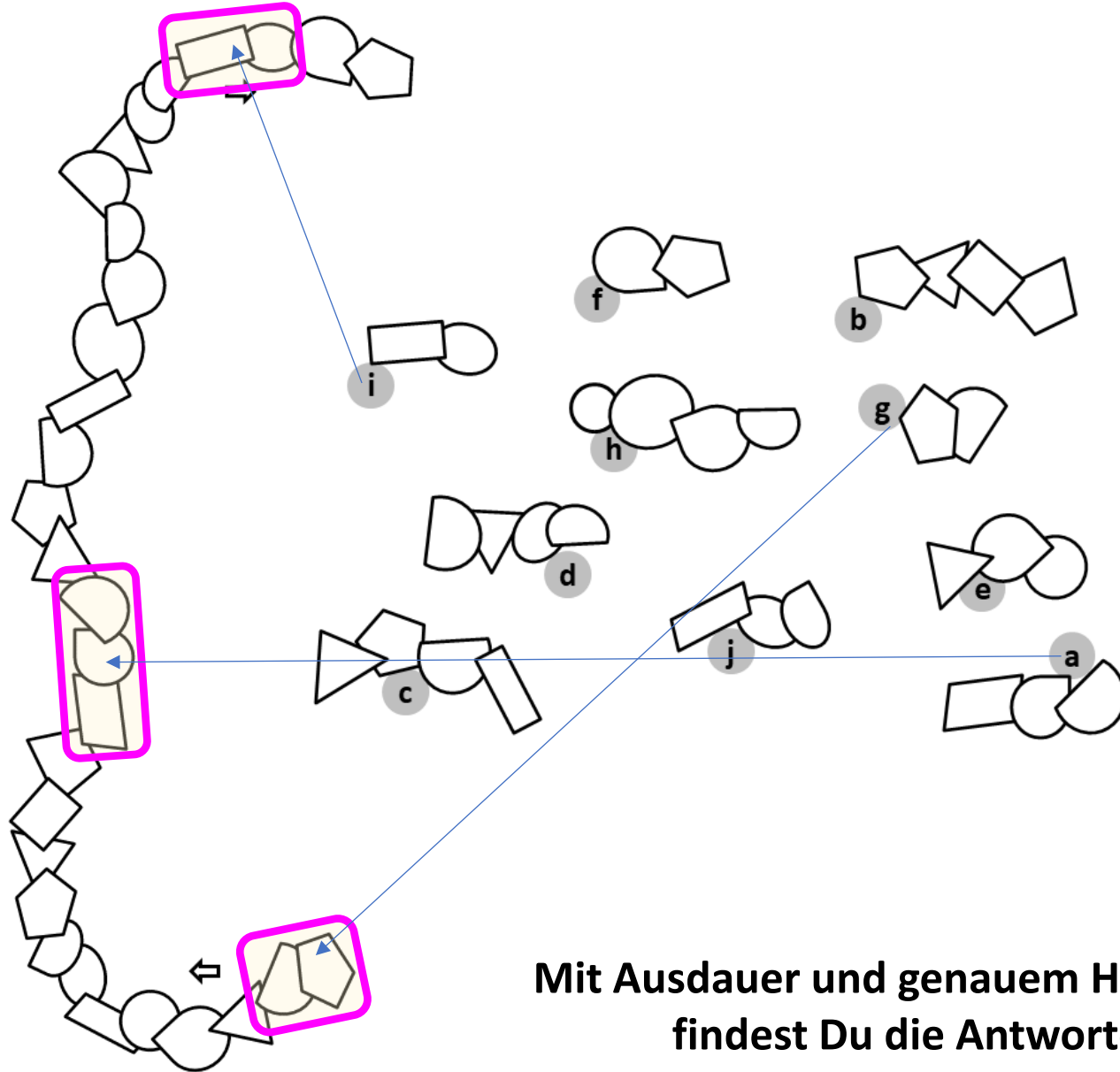
Tabelle für die Reihenfolge ? (a-j)

In welcher Reihenfolge stehen die Fragmente in der Formenkette?

Jetzt zeige ich 3 Fragmente, für die 1., für die 5. und für die 9. Position.

Bei den Aufgaben mit 100 Formen und 30 Fragmenten dauert die Suche natürlich sehr viel länger.

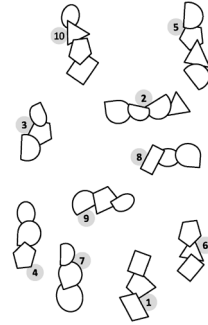
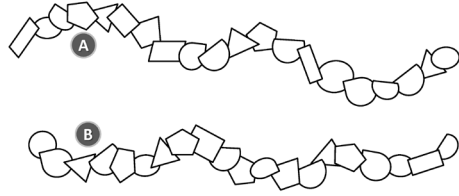
Mit Ausdauer und genauem Hinschauen findest Du die Antworten.



1	-
2	-
3	-
4	-
5	-
6	-
7	-
8	-
9	-
10	-



Formidabel



Ich wünsche viel Spaß
mit dieser Übung !

